



GUÍA Nº3

MATEMÁTICA

Profesor MARIELA DIAZ

Nombre:

Curso:

Fecha:

Objetivos: Encontrar y completar patrones en secuencias de números.

Instrucciones:

- ✓ LEE CADA PREGUNTA Y RESPONDE EN GUIA
- ✓ SI NO LA TIENES IMPRESA RESPONDE EN TU CUADERNO

A. Trabajemos con la tabla de contar y la recta numérica:


Completa la tabla de 100, escribiendo los números que faltan.

1	2	3		5	6	7	8	9	10
11	12	13	14	15		17	18	19	
	22		24	25	26	27	28		30
31	32	33	34		36	37	38	39	40
41	42	43		45	46	47	48	49	
		53	54	55	56	57		59	60
61	62	63	64		66	67	68	69	70
71	72		74	75	76	77		79	
	82	83	84		86		88	89	90
91	92	93	94	95	96	97	98		100


Completa la recta numérica escribiendo números de 50 en 50, hasta llegar a 1.000





Anota las secuencias obtenidas en cada caso, guiándote por la tabla para contar y recta numérica según corresponda:


1. Cuenta hacia adelante  de 3 en 3 desde el número 12 hasta 27


2. Cuenta hacia adelante  de 5 en 5 desde el número 30 hasta 90


3. Cuenta hacia adelante  de 4 en 4 desde el número 36 hasta 52


4. Cuenta hacia adelante  de 10 en 10 desde el número 10 hasta 90


5. Cuenta hacia adelante  de 100 en 100 desde el número 300 hasta 800

6. Cuenta hacia atrás  de 3 en 3 partiendo del número 36 hasta el 24

7. Cuenta hacia atrás  de 5 en 5 partiendo del número 85 hasta el 30

8. Cuenta hacia atrás  de 10 en 10 partiendo del número 100 hasta 1


9. Cuenta hacia atrás  de 100 en 100 partiendo del número 700 hasta 400

10. Cuenta hacia atrás  de 4 en 4 partiendo desde el 40 hasta el 24


A. Trabajemos con monedas:

Responde:

1.- ¿Cuántas monedas de \$10 forman \$100?

 = _____

2.- ¿Cuántas monedas de \$50 forman \$1.000?

 = _____

3.- ¿Cuántas monedas de 100 forman \$1.000?

 = _____

4.- ¿Qué monedas necesito para formar \$1.250? (dibújalas)

10 _____
50 _____
100 _____
500 _____

\$ _____

5.- ¿Qué monedas necesito para formar \$1600? (dibújalas)

10 _____
50 _____
100 _____
500 _____

\$ _____